






Completa cada uma das seguintes planificações do cubo representado na figura.



- Figura -


- Planificações -



Ilustrações: Yarn Thual

Projecto Aprender a Brincar do Hospital Pediátrico de Coimbra www.mat.uc.pt/aprender





O Zéfiro está a fazer malabarismo
com três cubos iguais.




Descobre qual é a cor da face que está voltada
para baixo do cubo que está no ar.

O Zéfiro desafia-te.

Quais das seguintes planificações correspondem a cubos com uma linha fechada à sua volta?



Aceitas mais um desafio?
Desenha cubos em perspectiva
com essas linhas.



Uma das formas de resolver esta questão é fazer corresponder letras aos vértices.

