

O Zéfiro está com um problema de pesos!




8400



7700

Observa os valores nas balanças. Consegues descobrir o peso de cada animal?



Concepção gráfica: Yarn Thual

Projecto Aprender a Brincar do Hospital Pediátrico de Coimbra

www.mat.uc.pt/aprender


O Zéfiro foi ao jardim zoológico ajudar o seu amigo veterinário.

Ficou com a tarefa de anotar o peso de cada animal mas esqueceu-se de escrever os nomes correspondentes e as etiquetas ficaram incompletas.




110

520




87

153



231



O leão é mais leve do que a zebra, a avestruz é mais pesada do que a foca, o camelo é o mais pesado, o leão é mais pesado do que a foca, a avestruz é mais leve do que o leão.

Solução: 87 - foca, 110 - avestruz, 153 - leão, 231 - zebra, 520 - camelo.

Quantos cubos de ração vai comer cada animal?

avestruzi:

zebra:

camelo:

