


O Zéfiro vai participar numa prova de ténis que tem início num dos seguintes horários.

A que horas começa a prova sabendo que a essa hora os ponteiros fazem um ângulo de 150°?




Concepção gráfica: Yann Thucl


Projecto Aprender a Brincar do Hospital Pediátrico de Coimbra www.maf.uc.pt/aprender

Quanto custa cada bola?

7 Euros



19 Euros



Solução: 1 euro.

No bairro onde vive o Zéfiro, os habitantes resolveram organizar umas olimpíadas.

O primeiro desafio consiste em arrumar o pátio de forma a serem obtidas 3 áreas quadradas. Mas esta tarefa só pode ser executada movendo apenas 4 troncos.

