












Tenta descobrir qual a prenda que cada um dos amigos ofereceu ao Zéfiro.

Paula		1ª	
Maria		2ª	
Yolanda		3ª	
João		4ª	
Yuri		5ª	

As prendas foram entregues na ordem indicada. A Yolanda ofereceu uma prenda para o futebol. A prenda da Maria foi entregue depois do livro, mas não foi a última. A prenda da Paula foi dada antes do livro. O João não foi o último a entregar a sua prenda.

Concepção: Professores e alunos do Departamento de Matemática da Faculdade de Ciências e Tecnologia da Universidade de Coimbra e da Physics - Associação Portuguesa de Estudantes de Física.



Concepção gráfica: Yann Thual

Projecto Aprender a Brincar do Hospital Pediátrico de Coimbra www.mat.uc.pt/aprender

O Zéfiro faz anos! Vamos comemorar com ele?

P A R A B É N S

Quantas figuras geométricas de cada tipo consegues encontrar na sua festa?




- Circunferências _____
- Triângulos _____
- Rectângulos _____



Descobre a mensagem que os amigos do Zéfiro deixaram.

- A B C D E F G H I J L M N O P Q R S T U V X Z

Usa a legenda e coloca as velas adequadas em cada bolo dos familiares do Zéfiro.

- 1 Ano 
- 5 Anos 
- 10 Anos 



Tia:
32 anos

Mãe:
37 anos

Pai:
44 anos

Avó:
65 anos

Avô:
72 anos