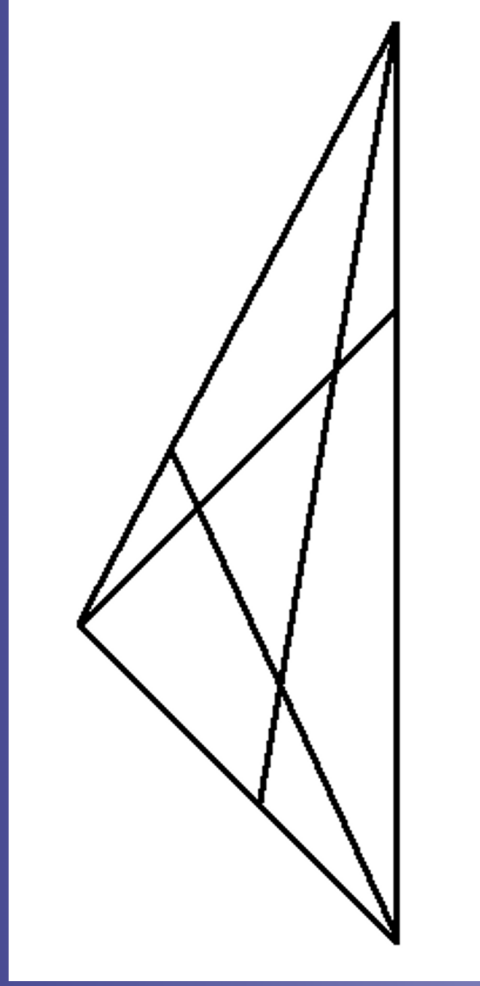




O Zéfiro esteve a brincar na areia a desenhar triângulos.
Quantos triângulos desenhou no total?



Concepção gráfica: Yam Thual

Projecto Aprender a Brincar do Hospital Pediátrico de Coimbra www.mat.uc.pt/aprender

Desenha uma linha de modo a dividir o jardim do Zéfiro em duas partes iguais.



Solução: 17.

Concepção: Professores e alunos do Departamento de Matemática da Faculdade de Ciências e Tecnologia da Universidade de Coimbra e da Physis - Associação Portuguesa de Estudantes de Física.



Quantas flores o Zéfiro colheu para dar à sua mãe, sabendo que:
todas eram rosas menos duas;
todas eram cravos menos duas;
todas eram tulipas menos duas.

O Zéfiro apanhou várias aranhas e escaravelhos num total de 9, e guardou-os numa caixa.
Ao contar o número total de patas, o Zéfiro obteve 62.
Quantas aranhas e quantos escaravelhos há na caixa?



Solução: 3

Solução: 4 aranhas (32 patas) e 5 escaravelhos (30 patas).

