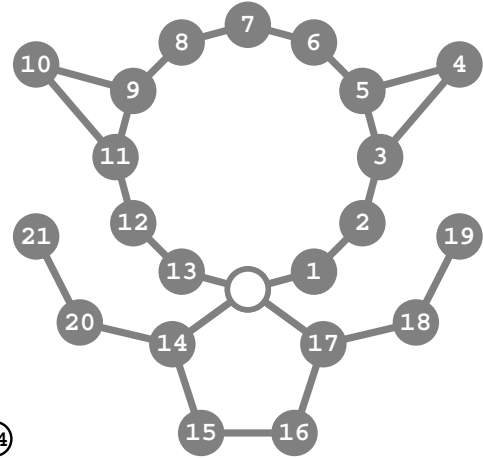
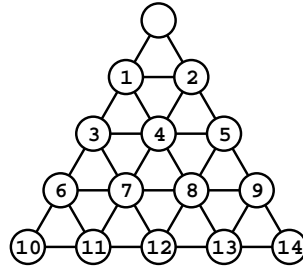
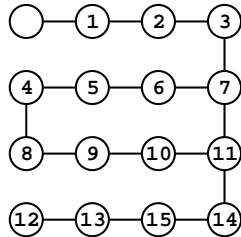


Puzzle dos 16 & companhia



Trata-se dum *puzzle* do famoso Sam Lloyd (1841-1911) jogado num tabuleiro 4×4 , com 15 peças numeradas e uma casa vazia que rotulamos com \emptyset . Em cada jogada, \emptyset troca de posição com o rótulo duma das casas adjacentes. Uma *configuração* ou *rotulação* é uma permutação de $\emptyset, 1, \dots, 15$, lida no tabuleiro linha após linha (da esquerda para a direita) de cima para baixo; a rotulação da figura acima é $S = (\emptyset 1 2 3 4 5 6 7 8 9 10 11 12 13 15 14)$. O problema de Sam Lloyd é o de saber se existe uma sequência de jogadas que permita, partindo de S , chegar à configuração ‘natural’ $N = (\emptyset 1 2 3 \dots 13 14 15)$.

Numa sequência de jogadas, o rótulo \emptyset percorre um caminho no tabuleiro, que se chama *circuito* se \emptyset começa e acaba na mesma posição. Cada circuito de \emptyset determina uma aplicação $f: \mathcal{C} \rightarrow \mathcal{C}$, onde $f(A)$ é a configuração obtida quando se executa o circuito de \emptyset começando com A . Chamamos F ao conjunto dessas funções. Um *invariante* de F é uma aplicação φ de domínio \mathcal{C} , tal que $\varphi(f(A)) = \varphi(A)$. A *órbita* de $A \in \mathcal{C}$ é o conjunto $O_A = \{f(A) : f \in F\}$. Os elementos duma órbita têm todos \emptyset no mesmo local. Os problemas básicos são descobrir invariantes e determinar órbitas.

1. Mostrem que F é um grupo para a composição funcional. Provem que $O_A = O_B$ se e só se existe $f \in F$ tal que $B = f(A)$, e que órbitas distintas são disjuntas.

2. No puzzle dos 16, que relação há entre as paridades das permutações A e $f(A)$? O problema de Sam Lloyd tem solução? Quantas órbitas há e quantos elementos tem cada uma?

(*) O *puzzle* pode generalizar-se a um grafo (simples) com nodos rotulados, um deles com \emptyset . Pergunta-se então: *quais são e quantos são os elementos da órbita da configuração dada?*

3. Respondam às perguntas colocadas em (*), quando:

- O grafo é o de 16 nodos da figura.
- O grafo é o triangular da figura. Generalizem a um grafo triangular com n nodos de lado.
- O grafo é um ciclo de $2n$ nodos com uma ponte de 1 nodo ligando dois nodos opostos do ciclo.
- O grafo é o da quarta figura acima.

4. No conjunto \mathcal{C} das rotulações dum grafo com $n \geq 3$ nodos, há n órbitas. Provem que o grafo é conexo, sem nodos pendentos, e com pelo menos um ciclo ímpar. Será verdadeiro o recíproco?

RESPOSTAS

1. *Mostrem que F é um grupo para a composição funcional. Provem que $O_A = O_B$ se e só se existe $f \in F$ tal que $B = f(A)$, e que órbitas distintas são disjuntas.*

F é fechado para a composição funcional, pois se $f, g \in F$, então f resulta dum circuito c e g dum circuito d ; claro que $f \circ g$ resulta da concatenação dos circuitos c e d . Se c^* é o circuito “reverso” de c (as inversas das jogadas de c executadas pela ordem inversa) então a função associada a c^* é f^{-1} , pelo que F é fechado para a inversão. Claro que a aplicação identidade, id , está em F pois corresponde ao circuito de comprimento 0.

Seja $O_A = O_B$; como $B \in O_B$, vale $B \in O_A$; portanto existe $f \in F$ tal que $B = f(A)$. Reciprocamente, se $B = f(A)$ para algum f , então $A = f^{-1}(B)$, isto é, $A \in O_B$; para qualquer $X \in O_B$ temos $X = g(B)$ para algum g ; portanto $X = g \circ f(A)$, donde $X \in O_A$; provou-se $O_B \subseteq O_A$ e a prova de $O_A \subseteq O_B$ segue do mesmo modo pois $A \in O_B$. Portanto $O_A = O_B$.

Se existe $X \in O_A \cap O_B$, temos $O_X = O_A$ e $O_X = O_B$; portanto $O_A = O_B$. Conclusão: se $O_A \neq O_B$, então $O_A \cap O_B = \emptyset$. \square

2. *No puzzle dos 16, que relação há entre as paridades das permutações A e $f(A)$? O problema de Sam Lloyd tem solução? Quantas órbitas há e quantos elementos tem cada uma?*

Uma jogada simples executada sobre A faz em A uma troca de dois termos; assim, resulta de A uma permutação de paridade distinta da de A ; se sobre A executarmos uma sequência de jogadas simples em número par, resulta daí uma permutação com a mesma paridade de A . No tabuleiro 4×4 todos os circuitos têm comprimentos pares. Portanto A e $f(A)$ têm a mesma paridade. O problema de Sam Lloyd não tem solução, pois a configuração da figura e a permutação ‘natural’, N , são de paridades distintas.

Para completar a resposta, provamos que a órbita de N é o conjunto \mathcal{P} das permutações pares nas quais \emptyset ocupa a primeira posição. Vimos que $O_N \subseteq \mathcal{P}$. Reciprocamente, seja $\sigma \in \mathcal{P}$. Vamos ver que é possível transformar σ em N , com um elemento de F (isto é, vamos indicar um algoritmo para resolver o *puzzle dos 16*). Com jogadas adequadas é fácil colocar os rótulos 8, 9, ..., 15 nos devidos lugares das duas linhas de baixo. Depois colocam-se 2, 3, 6, 7 nos seus lugares, sem mexer nos anteriormente colocados. Apenas ficam por colocar $\emptyset, 1, 4, 5$. Mexendo apenas nestes, coloquemos \emptyset na casa $(1, 1)$; fazendo \emptyset descrever ciclos sucessivos nas quatro casas (i, j) , $i, j = 1, 2$, ainda é possível colocar 1 na sua casa $(1, 2)$; e sobram apenas os rótulos 4, 5 que ficam nos lugares $(2, 2)$ e $(2, 1)$; e têm que ficar nas casas certas, pois a configuração obtida tem a paridade de σ , igual à de N . Assim sendo, $\sigma \in O_N$.

No conjunto das permutações de n elementos, há $n!/2$ pares. Como as de \mathcal{P} têm \emptyset na primeira posição, \mathcal{P} tem $15!/2$ elementos. O raciocínio acima pode repetir-se para qualquer configuração inicial K , concluindo-se que O_K tem $15!/2$ elementos. Como \mathcal{C} tem $16!$ elementos, e dada a disjunção das órbitas, há $16!/(15!/2) = 32$ órbitas. (Pode também argumentar-se dizendo que há duas órbitas para cada uma das 16 posições de \emptyset .)

[...] *quais são e quantos são os elementos da órbita da configuração dada?*

3. (a) *O grafo é o de 16 nodos da figura.*

Depois dum circuito de \emptyset , os nodos 1, 2, 3, 7, 12, 13, 14, 15 ficam invariantes. Se colocarmos \emptyset no lugar '7' e, a partir daí o fizermos percorrer uma vez o ciclo γ das posições iniciais de 7, 6, 5, 4, 8, 9, 10, 11, no sentido direto, os rótulos 6, 5, 4, 8, 9, 10, 11, farão a seguinte rotação, onde $x \rightarrow y$ significa que x passa para o lugar onde estava y : $6 \rightarrow 11 \rightarrow 10 \rightarrow 9 \rightarrow 8 \rightarrow 4 \rightarrow 5 \rightarrow 6$. Esta rotação será reiterada k vezes se fizermos \emptyset percorrer k vezes o ciclo γ no sentido direto. Há, pois, 7 elementos na órbita em estudo.

3. (b) *O grafo é o triangular da figura. Generalizem a um grafo triangular com n nodos de lado.*

Teorema. *Para o grafo triangular com n nodos de lado a órbita em causa consta de todas as configurações possíveis com \emptyset no topo.*

Prova. Por indução em n . Para $n = 2$ isso é óbvio, pois um circuito de \emptyset de comprimento 3 troca as posições dos rótulos 1, 2. Aceitando o teorema para n prova-se para $n + 1$. Com jogadas adequadas, constituindo um circuito de \emptyset , é fácil colocar quaisquer $n + 1$ rótulos na última linha do triângulo. Sobra um grafo triangular com n nodos e \emptyset no topo. A prova termina com aplicação d hipótese de indução. \square

O grafo triangular com n nodos de lado tem $T_n = \binom{n+1}{2}$ nodos. Existem, pois, $(T_n - 1)!$ rotulações distintas com \emptyset no topo, sendo esse o cardinal da órbita.

3. (c) *O grafo é um ciclo de $2n$ nodos com uma ponte de 1 nodo ligando dois nodos opostos do ciclo.*

Não consegui encontrar uma solução explícita. Fica em aberto para quem quiser entreter-se.

3. (d) *O grafo é o da quarta figura acima.*

O rótulo 19 é invariante pois está num nodo pendente; podemos pensar que ele não está lá, o que deixa pendente o nodo 18 que, por isso, também é invariante. Pelo mesmo motivo, 20, 21 são invariantes. O rótulos 14, 15, 16, 17 podem rodar no conjunto de 4 nodos que inicialmente ocupam e não podem ser transferidos para a parte superior do grafo; há pois 4 modos de colocar 14, 15, 16, 17.

Quanto à parte superior do grafo (cabeça e orelhas) os rótulos 1, 2, ..., 13 podem sofrer permutações circulares do tipo $1 \rightarrow 2 \rightarrow 3 \rightarrow \dots \rightarrow 13 \rightarrow 1$, por meio do circuito $\delta = (\emptyset, 13, 12, \dots, 2, 1, \emptyset)$. Se fizermos o circuito $\gamma = (\emptyset, 1, 2, 3, 4, 5, 3, 2, 1, \emptyset)$, os únicos rótulos que mudam são aqueles que se encontram nas posições originais de 4 e 5; esses dois rótulos sofrem uma transposição. Compondo repetidamente os circuitos γ e δ , podemos transpor quaisquer rótulos que ocupem posições adjacentes em $\{1, \dots, 13\}$. Portanto, há $13!$ rotulações distintas das posições 1, ..., 13. Assim, o número de elementos da órbita em estudo é $4 \times 13!$

4. *No conjunto \mathcal{C} das rotulações dum grafo com $n \geq 3$ nodos, há n órbitas. Provem que o grafo é conexo, sem nodos pendentes, e com pelo menos um ciclo ímpar. Será verdadeiro o recíproco?*

Para cada nodo x , seja U_x o conjunto de *todas* as configurações com \emptyset no nodo x . Claro que U_x é uma união de órbitas; como os U_x são disjuntos 2-a-2 e há apenas n órbitas, os U_x são essas órbitas.

Por absurdo, admitamos que o grafo é desconexo. Fixemos um nodo z . Existe outro nodo w não conectado a z por um caminho no grafo. Em U_z , \emptyset está em z e nenhum circuito de \emptyset passa em w ; portanto o rótulo de w é invariante. Como $n > 2$ há pelo menos dois rótulos distintos de \emptyset ; existem então pelo menos duas órbitas em U_z , uma com w rotulado duma maneira, outra com w rotulado doutra maneira. Contradição!

Por absurdo, admitamos que o grafo tem um nodo w pendente; tomemos U_z com $z \neq w$. O rótulo de w é invariante; como no caso anterior, U_z tem pelo menos duas órbitas. Contradição!

Lema. *Num grafo em que todos os ciclos são pares, todo o circuito tem comprimento par.*

Prova. Um circuito de comprimento m é uma sucessão de nodos, $\gamma = (v_1, v_2, \dots, v_m, v_1)$, onde cada nodo é adjacente ao seguinte. Um ciclo é um circuito onde em v_1, v_2, \dots, v_m não há repetições. Podemos provar o lema por indução em m , aceitando, desde já, a sua veracidade para circuitos de comprimentos $< m$. Se γ é ciclo, então m é par. Se γ não é ciclo, existem $r < s$ tais que $v_r = v_s$. Então $\gamma' = (v_r, v_{r+1}, \dots, v_{s-1}, v_r)$ e $\gamma'' = (v_1, \dots, v_{r-1}, v_s, \dots, v_m, v_1)$ são circuitos de comprimentos $s - r$ e $m - s + r$; por indução, estes números são pares pelo que m é par. \square

Por absurdo, admitamos que no grafo todos os ciclos são pares. Fixemos uma órbita U_z . Como os circuitos de \emptyset têm comprimentos pares, as configurações em U_z são permutações pares. Isso deixa de fora as ímpares. Contradição!