



EXAME FINAL NACIONAL DO ENSINO SECUNDÁRIO

Prova Escrita de Matemática B

11.º Ano de Escolaridade

Decreto-Lei n.º 139/2012, de 5 de julho

Prova 735/2.ª Fase

15 Páginas

Duração da Prova: 150 minutos. Tolerância: 30 minutos.

2014

Utilize apenas caneta ou esferográfica de tinta azul ou preta, exceto nas respostas que impliquem construções, desenhos ou outras representações, que podem ser primeiramente feitos a lápis e a seguir passados a tinta.

É permitido o uso de régua, compasso, esquadro, transferidor e calculadora gráfica.

Não é permitido o uso de corretor. Deve riscar aquilo que pretende que não seja classificado.

Para cada resposta, identifique o grupo e o item.

Apresente as suas respostas de forma legível.

Apresente apenas uma resposta para cada item.

A prova inclui um formulário.

As cotações dos itens encontram-se no final do enunciado da prova.

Página em branco

Na resposta aos itens, apresente todos os cálculos que tiver de efetuar e todas as justificações necessárias.

Sempre que recorrer à calculadora, apresente todos os elementos recolhidos na sua utilização, mais precisamente, consoante a situação:

- os gráficos obtidos e as coordenadas dos pontos relevantes para a resolução (por exemplo, coordenadas de pontos de intersecção de gráficos, máximos e mínimos);
 - as linhas da tabela obtida que são relevantes para a resolução;
 - as listas que introduziu na calculadora para obter as estatísticas relevantes para a resolução (por exemplo, média, desvio padrão, coeficiente de correlação e declive e ordenada na origem de uma reta de regressão).
-

Formulário

Geometria

Comprimento de um arco de circunferência:

αr (α – amplitude, em radianos, do ângulo ao centro; r – raio)

ou

$\frac{\alpha \pi r}{180}$ (α – amplitude, em graus, do ângulo ao centro; r – raio)

Áreas de figuras planas

Losango: $\frac{\text{Diagonal maior} \times \text{Diagonal menor}}{2}$

Trapézio: $\frac{\text{Base maior} + \text{Base menor}}{2} \times \text{Altura}$

Polígono regular: $\text{Semiperímetro} \times \text{Apótema}$

Sector circular:

$\frac{\alpha r^2}{2}$ (α – amplitude, em radianos, do ângulo ao centro; r – raio)

ou

$\frac{\alpha \pi r^2}{360}$ (α – amplitude, em graus, do ângulo ao centro; r – raio)

Áreas de superfícies

Área lateral de um cone: $\pi r g$ (r – raio da base; g – geratriz)

Área de uma superfície esférica: $4 \pi r^2$ (r – raio)

Área lateral de um cilindro reto: $2 \pi r g$ (r – raio da base; g – geratriz)

Volumes

Pirâmide: $\frac{1}{3} \times \text{Área da base} \times \text{Altura}$

Cone: $\frac{1}{3} \times \text{Área da base} \times \text{Altura}$

Esfera: $\frac{4}{3} \pi r^3$ (r – raio)

Cilindro: $\text{Área da base} \times \text{Altura}$

Progressões

Soma dos n primeiros termos de uma progressão (u_n) :

• **Progressão aritmética:** $\frac{u_1 + u_n}{2} \times n$

• **Progressão geométrica:** $u_1 \times \frac{1 - r^n}{1 - r}$

Probabilidades e Estatística

Se X é uma variável aleatória discreta de valores x_i com probabilidade p_i , então:

• **Valor médio de X :**

$$\mu = p_1 x_1 + \dots + p_n x_n$$

• **Desvio padrão de X :**

$$\sigma = \sqrt{p_1 (x_1 - \mu)^2 + \dots + p_n (x_n - \mu)^2}$$

Se X é uma variável aleatória normal de valor médio μ e desvio padrão σ , então:

$$P(\mu - \sigma < X < \mu + \sigma) \approx 0,6827$$

$$P(\mu - 2\sigma < X < \mu + 2\sigma) \approx 0,9545$$

$$P(\mu - 3\sigma < X < \mu + 3\sigma) \approx 0,9973$$

GRUPO I

Dois grupos musicais venceram concursos televisivos, o que lhes permitiu o lançamento, no mercado nacional, dos seus álbuns de estreia, designados, respetivamente, por *Álbum F* e por *Álbum G*.

Os dois grupos têm a mesma editora discográfica e o lançamento dos álbuns de estreia realizou-se na mesma data. Antes dessa data, e durante um certo período de tempo, a editora promoveu na Internet uma pré-venda dos álbuns, permitindo aos fãs a aquisição de exemplares com uma capa especial.

Admita que:

- o número, em milhares, de exemplares do *Álbum F* vendidos até ao instante t é dado, aproximadamente, por

$$f(t) = \frac{14}{1 + 6e^{-0,3t}}$$

- o número, em milhares, de exemplares do *Álbum G* vendidos até ao instante t é dado, aproximadamente, por

$$g(t) = \frac{12}{1 + 3e^{-0,5t}}$$

- nos dois modelos, a variável t representa o tempo, em meses, decorrido desde a data do lançamento do *Álbum F* e do *Álbum G*.

- Qual foi o álbum mais vendido no período de pré-venda?

Na sua resposta, apresente o número de exemplares de cada álbum vendidos no período de pré-venda.

- Determine quanto tempo decorreu desde a data do lançamento dos álbuns até à data em que o número de exemplares vendidos do *Álbum F* ultrapassou o número de exemplares vendidos do *Álbum G*.

Apresente o resultado em meses, arredondado às unidades.

Resolva o problema, recorrendo às potencialidades gráficas da sua calculadora.

- Em Portugal, o *Disco de Platina* é um galardão entregue a um grupo ou artista musical se as vendas de um dos seus álbuns atingirem as 15 000 unidades.

Algum dos grupos será galardoado com o *Disco de Platina*, pelas vendas do seu álbum de estreia, de acordo com os modelos apresentados?

Justifique a sua resposta.

GRUPO II

A descoberta de ouro no Brasil trouxe, no século XVIII, alterações significativas à vida da corte portuguesa e refletiu-se na arte e no estilo do mobiliário português da época.

1. Admita que, numa determinada mina de ouro, foi necessário construir um poço, que permitisse um acesso direto às galerias da mina situadas a maior profundidade.

Dadas as características geológicas do subsolo e a complexidade dos trabalhos de escavação, o número de metros escavados em cada dia foi progressivamente diminuindo, até se alcançar a profundidade pretendida.

Sabe-se que:

- no final do primeiro dia de trabalho, o poço ficou com 30 metros de profundidade;
- no segundo dia, foram escavados 28,5 metros (95% de 30 metros), ficando o poço, no final desse dia, com 58,5 metros de profundidade.

Admita que os trabalhos prosseguiram, de modo que, em cada dia, a partir do segundo, a profundidade acrescentada ao poço, em metros, foi 95% da profundidade acrescentada ao poço no dia anterior.

Considere a sequência (p_n) , em que p_n é o número de metros acrescentados à profundidade do poço, no dia de trabalho de ordem n

- 1.1. Quantos metros foram acrescentados à profundidade do poço no décimo dia de trabalho?

Apresente o resultado arredondado às décimas.

Na sua resposta, comece por justificar que os termos da sequência (p_n) são termos consecutivos de uma progressão geométrica de razão 0,95

Em cálculos intermédios, conserve, no mínimo, três casas decimais.

- 1.2. Determine quantos dias de trabalho foram necessários para que a profundidade do poço ultrapassasse 575 metros.

Em cálculos intermédios, conserve, no mínimo, três casas decimais.

2. A Beatriz resolveu corretamente um problema de programação linear sobre mobiliário português do século XVIII e elaborou um relatório do qual constavam o enunciado e a resolução detalhada do mesmo. Entretanto, devido a um problema informático, perdeu parte do enunciado e parte da resolução.

Do enunciado, conseguiu recuperar apenas o excerto seguinte.

«Uma empresa de mobiliário produz, artesanalmente, cadeiras de estilo português do século XVIII, estilo D. José e estilo D. Maria I, estando assegurada a venda de todas as cadeiras que produza.

Na produção destas cadeiras, estão envolvidas três secções da empresa: a secção de marcenaria, a secção de revestimento e a secção de acabamento. Para o efeito, a secção de marcenaria dispõe de 720 horas mensais, a secção de revestimento dispõe de 320 horas mensais e a secção de acabamento dispõe de 440 horas mensais.

A empresa obtém 300 euros de lucro com a venda de cada cadeira estilo D. José.»

Quanto à resolução, conseguiu recuperar apenas o excerto seguinte.

«Designo por x o número de cadeiras estilo D. José produzidas, mensalmente, pela empresa.

A limitação das horas mensais na secção de marcenaria traduz-se pela condição

$$6x + 4y \leq 72$$

A limitação das horas mensais na secção de revestimento traduz-se pela condição

$$2x + 2y \leq 32$$

A limitação das horas mensais na secção de acabamento traduz-se pela condição

$$4x + 2y \leq 44 \text{ »}$$

A Beatriz sabe que a função objetivo é o lucro obtido pela empresa com a venda das cadeiras dos dois estilos e que o lucro máximo, 3600 euros, se obtém no ponto de coordenadas (8, 6)

Elabore uma pequena composição, na qual:

- refira o significado da variável y
- indique, justificando, o número de horas utilizadas em cada uma das secções da empresa na produção de uma cadeira *estilo D. José*;
- escreva, justificando, uma expressão da função objetivo.

GRUPO III

Num terreno agrícola, retangular, é necessário colocar uma rede, de modo a dividir o terreno em três partes: uma parte com a forma de um triângulo e cada uma das outras com a forma de um trapézio retângulo.

Na Figura 1, o retângulo $[ABCD]$ representa o terreno e os três segmentos de reta a traço mais grosso representam a rede. O esquema da figura não está desenhado à escala.

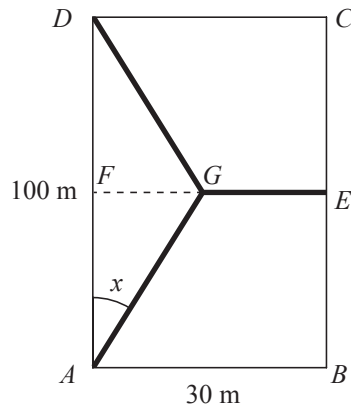


Figura 1

Sabe-se que:

- o ponto E é o ponto médio de $[BC]$
- o ponto F é o ponto médio de $[AD]$
- o ponto G é um ponto móvel que pertence a $[EF]$
- x é a amplitude, em graus, do ângulo GAF , com $x \in]0, 25]$
- os lados correspondentes a $[AB]$ e a $[AD]$ medem, respetivamente, 30 m e 100 m

O comprimento da rede depende do valor de x

1. Mostre que o comprimento, R , em metros, da rede pode ser dado, em função de x , por

$$R(x) = 30 + \frac{100 - 50\text{sen}(x)}{\cos(x)}$$

Na sua resposta, poderá começar por escrever \overline{FG} em função de $\text{tg}(x)$

2. Para um certo valor de x , verifica-se que $\cos(x) = \frac{12}{13}$

Mostre que, para esse valor de x , o comprimento da rede é igual a 117,5 m

Na sua resolução, utilize apenas valores exatos.

3. Sabe-se que $\frac{R(25) - R(15)}{25 - 15} \approx -0,3$

Interprete, no contexto do problema, o significado desta expressão e do seu valor.

4. Considere a função T , que dá, em metros por grau, a taxa de variação instantânea da função R , para cada valor de x

Na Figura 2, apresenta-se o gráfico da função T

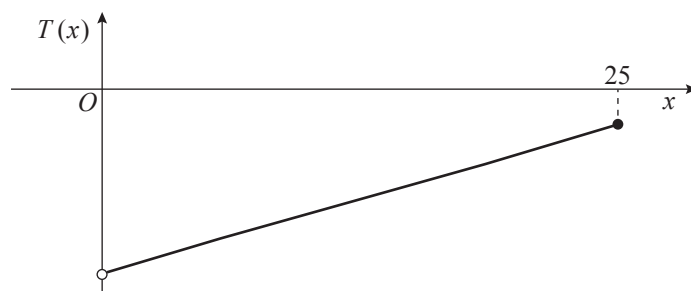


Figura 2

O que se pode concluir quanto à monotonia da função R ?

Justifique a sua resposta, com base no gráfico da função T

Página em branco

GRUPO IV

Numa escola, o professor de Matemática B propôs aos alunos das turmas I e J, do curso de Artes Visuais, a elaboração de trabalhos subordinados ao tema «Matemática e Arte».

1. Os alunos do curso de Artes Visuais distribuem-se por turmas e por género de acordo com a tabela seguinte.

	Rapazes	Raparigas
Turma I	10	18
Turma J	a	10

Escolhido, ao acaso, um destes alunos, a probabilidade de ser rapaz é $\frac{6}{13}$

Determine o valor de a

2. Considere as seguintes variáveis aleatórias:

X : «tempo gasto, em minutos, por um aluno da turma I, na elaboração do respetivo trabalho»

Y : «tempo gasto, em minutos, por um aluno da turma J, na elaboração do respetivo trabalho»

As variáveis aleatórias X e Y seguem distribuições normais, ambas de valor médio 220 minutos.

Admita que:

$$P(200 < X < 240) \approx 0,6827 \quad \text{e} \quad P(200 < Y < 240) \approx 0,9545$$

Qual das variáveis aleatórias X e Y tem menor desvio padrão?

Justifique a sua resposta.

3. Os *Sangakus* são tábuas de madeira, existentes em diversos santuários no Japão, que contêm problemas matemáticos, envolvendo conceitos geométricos. Os *Sangakus* mais antigos que se conhecem datam do século XVII.

A Figura 3 apresenta parte de uma tábua *Sangaku*.

O trabalho elaborado por um dos alunos, representado na Figura 4, consistiu numa pintura alusiva a um dos problemas de uma tábua *Sangaku*.



Figura 3

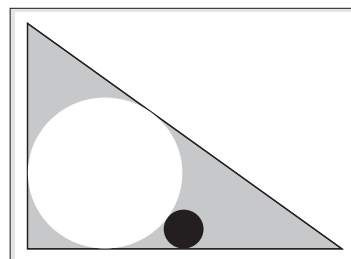


Figura 4

A Figura 5 reproduz um esquema elaborado com base na pintura do aluno.

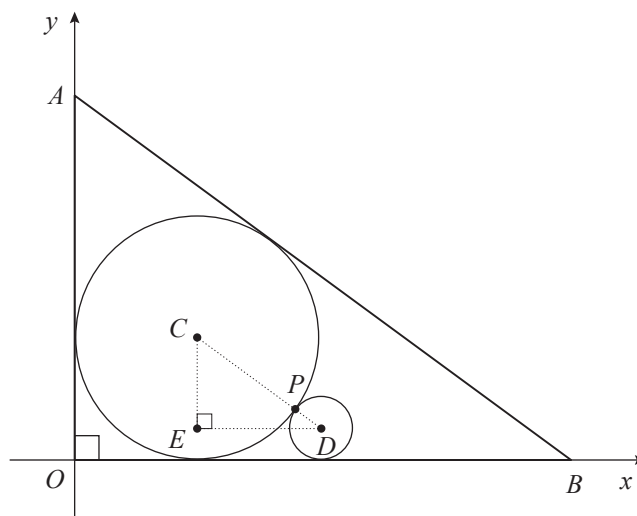


Figura 5

Neste esquema, estão representados, num referencial ortogonal e monométrico xOy :

- a circunferência de centro no ponto C , tangente aos eixos coordenados;
- a circunferência de centro no ponto D , tangente ao eixo Ox e tangente, no ponto P , à circunferência de centro C

- os pontos A e B , pertencentes a Oy e Ox , respectivamente, tais que a reta AB é tangente à circunferência de centro C
- o triângulo $[AOB]$
- o ponto E , interior à circunferência de centro C , tal que $[ED] \parallel [OB]$
- o triângulo $[CED]$, retângulo em E

O ponto P pertence a $[CD]$ e $\overline{CP} > \overline{PD}$

3.1. Admita que:

- o triângulo $[AOB]$ é uma ampliação do triângulo $[CED]$, sendo a razão de semelhança igual a 4
- $\overline{CE} = 3$
- $\overline{OB} = 16$

Determine a equação reduzida da reta AB

3.2. Admita, agora, que os triângulos $[AOB]$ e $[CED]$ não são semelhantes.

Sejam r e s os raios das circunferências de centros C e D , respectivamente, tais que $r \times s = 9$

Determine \overline{ED}

Na sua resposta, percorra, sucessivamente, as seguintes etapas:

- escrever \overline{CE} e \overline{CD} em função dos raios das duas circunferências;
- aplicar o teorema de Pitágoras ao triângulo $[CED]$ para calcular \overline{ED}

FIM

Página em branco

COTAÇÕES

GRUPO I

1.	15 pontos
2.	15 pontos
3.	15 pontos
	<hr/>
	45 pontos

GRUPO II

1.	
1.1.	10 pontos
1.2.	15 pontos
2.	20 pontos
	<hr/>
	45 pontos

GRUPO III

1.	15 pontos
2.	15 pontos
3.	10 pontos
4.	10 pontos
	<hr/>
	50 pontos

GRUPO IV

1.	15 pontos
2.	15 pontos
3.	
3.1.	15 pontos
3.2.	15 pontos
	<hr/>
	60 pontos

TOTAL **200 pontos**